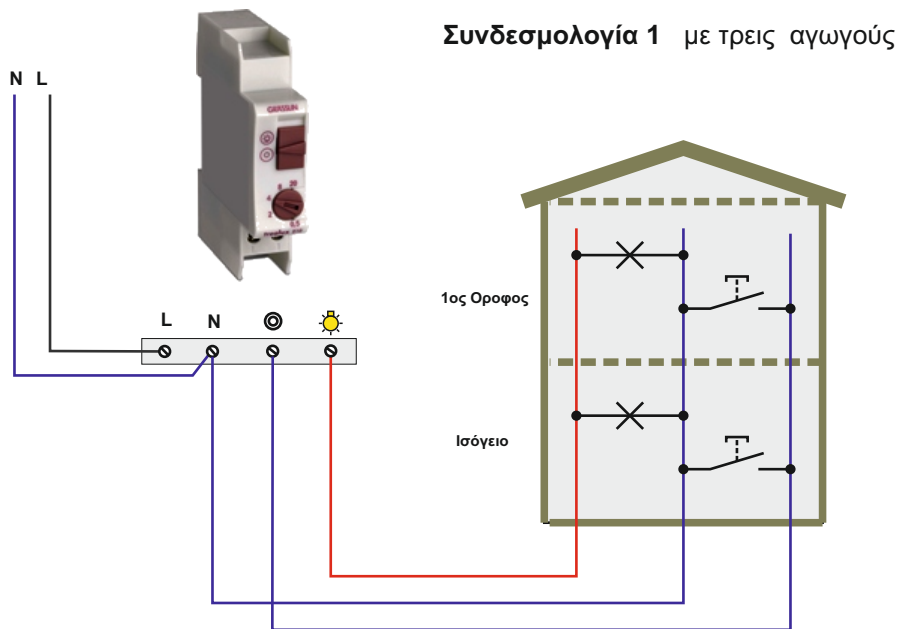


ΤΙΤΛΟΣ ΑΣΚΗΣΗΣ

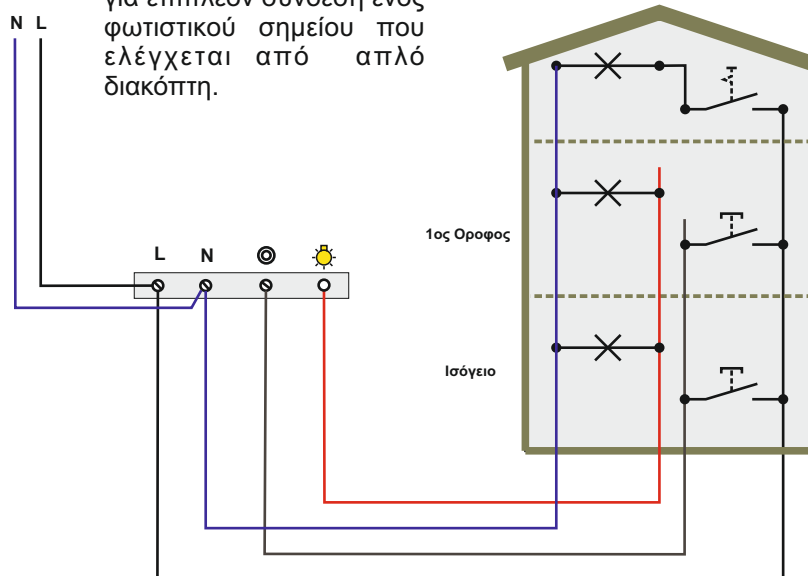
Άσκηση 14: Αυτόματος Διακόπτης Κλιμακοστασίου

ΣΥΝΔΕΣΜΟΛΟΓΙΑ

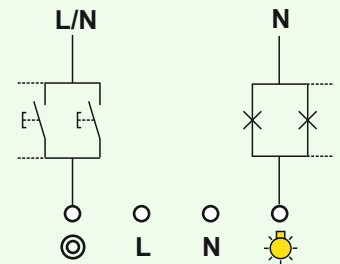


Συνδεσμολογία 2

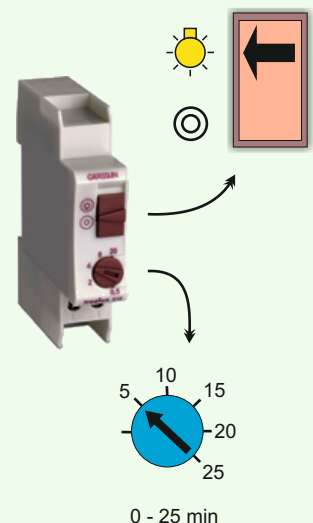
με τέσσερις αγωγούς για επιπλέον σύνδεση ενός φωτιστικού σημείου που ελέγχεται από απλό διακόπτη.



Λειτουργικό διάγραμμα συνδεσμολογίας



Σε όλους τους αυτόματους διακόπτες κλιμακοστασίου θα βρούμε ένα διακόπτη επιλογής τρόπου λειτουργίας. Με το διακόπτη αυτόν μπορούμε να επιλέξουμε αν ο φωτισμός θα μείνει μόνιμα ενεργοποιημένος ή θα ενεργοποιείται όταν πιέζουμε τα μπουτόν.



Ρυθμιστής χρόνου που ο φωτισμός θα μείνει ενεργός αφού πιέσουμε ένα μπουτόν.

ΘΕΩΡΗΤΙΚΟ ΜΕΡΟΣ



Βιβλίο Εργαστήριο Ηλεκτρικών Εγκαταστάσεων Β' ΕΠΑΛ (Άσκηση 14 σελ 83-85)

Βιβλίο Ηλεκτρικές Εγκαταστάσεις Β' ΕΠΑΛ (Παρ 8.6 σελ. 323-330)